



**DELHI PUBLIC SCHOOL, BHILAI**  
**VACATION HOMEWORK 2025 -'26**  
**CLASS -2**

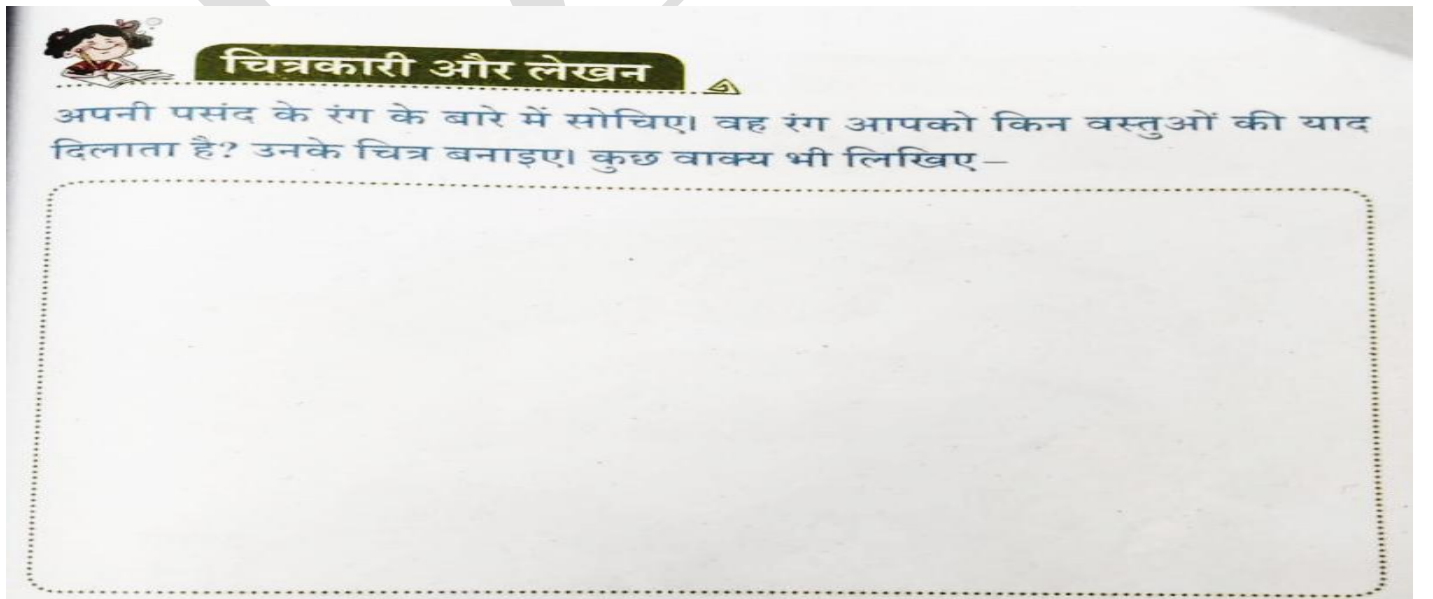
**ENGLISH**

1. Complete the Practice Book of Grammar Works:  
Chapter 2- Sentences, exercises A, B, C & D
2. Learn the poems: (Mridang)
  - My Bicycle ( Pg no. 1&2)
  - It is Fun ( Pg no.18 &19)
3. Learn the dictation words for Evaluation I .Also paste these on the first page of your English Notebook:

bicycle, helmet, garden, house, courtyard, skipped, scattered, jump, string, horse, quiet, remove, blink, wonderful, scarf, orange, musical, listen, glasses, finger, rocket, school, peace, monster, imagine, wrinkles, secret, competition, window, crossword, mountain, bounce, remark, penguin, promise, sparrow, nature, mischief, porridge, cottage,

**हिंदी**

- 1) 'सारंगी' पुस्तक से पाठ - 10 'कौन' कविता को अच्छी तरह याद करें एवं कक्षाकार्य कॉपी में लिखकर उससे संबंधित चित्र भी बनाएँ।
- 2) 'सारंगी' पुस्तक में पृष्ठ संख्या 31 में 'चित्रकारी और लेखन' के अंतर्गत चित्र बनाकर उसके बारे में पाँच वाक्य लिखें (पुस्तक में ही करें)



- 3) वर्णमाला के सभी वर्णों को क्रम से अपनी कक्षाकार्य कॉपी में सुंदर अक्षरों में लिखें एवं याद करें।
- 4) श्रुतलेख शब्दों की तालिका बनाकर प्रत्येक शब्द को कक्षाकार्य कॉपी में दो-दो बार लिखें।

1. दोपहर	2. तालाब	3. सारस	4. तलाश	5. आसमान
6. इंतज़ार	7. सब्ज़ी	8. स्कूल	9. दिशा	10. पेड़
11. जल्दी	12. साथ	13. समय	14. सूरज	15. बाहर
16. बिल्ली	17. भाई	18. खूब	19. हरियाली	20. पायल
21. डिब्बी	22. कागज़	23. मैदान	24. किनारे	25. डाकिए
26. घुँघरू	27. चाँदी	28. पर्वत	29. रंगीन	30. दोस्त
31. चमकदार	32. रोशनी	33. निर्मल	34. दुनिया	35. बारिश

## Est

On 1/4<sup>th</sup> chart paper paste the pictures of any 5 Internal organs and write their functions.

## MATHS

Take the printout of the following activities and complete activities 2, 3, 4 and 5 as per the instructions given:

- 1) Learn Multiplication Tables from 2 to 5(Dodge) for I evaluation.
- 2) Use Bindis for Tens and Star stickers for Ones in the box to show given 2- digit number and fill in the box. (Refer to page no. 8 of the book)

a)




\_\_\_\_\_ tens + \_\_\_\_\_ ones = 20 + 3 =

b)

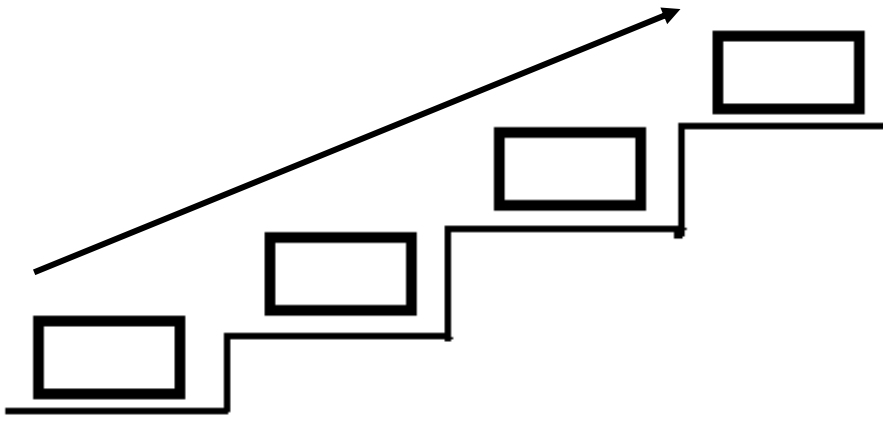


\_\_\_\_\_ tens + \_\_\_\_\_ ones = 50 + 6 =

- 3) Colour the flowers **YELLOW** which have more than 56 and less than 72.

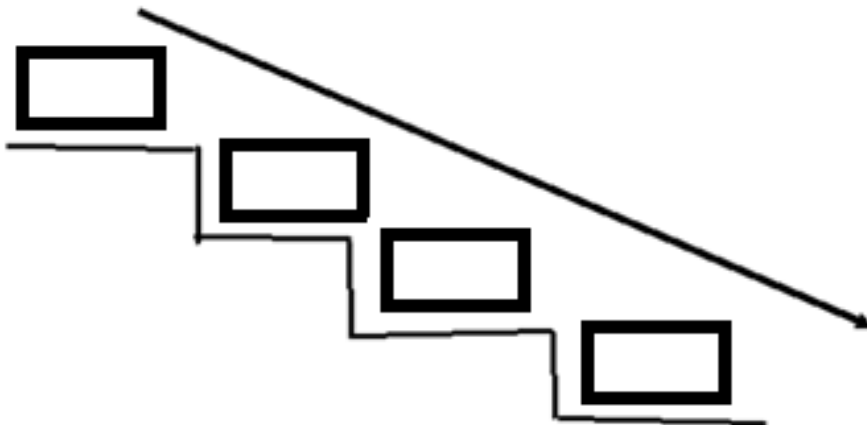


4. a) Arrange in ascending order:



46	17	9	38
----	----	---	----

b) Arrange in descending order:



25	99	31	76
----	----	----	----

4) Write the missing numbers :

76		78	
80	81		
	85		87
88		90	
	93		95